

Задание 1

В кодировке КОИ-8 каждый символ кодируется 8 битами.

Ученик написал текст (в нём нет лишних пробелов):

«Мои любимые герои мультфильмов: Шрек, Пумба, Маугли, Рататуй, Пиноккио, Винни-Пух, Белоснежка, Малефисента, Человек-паук, Конёк-Горбунок».

Ученик удалил из списка имя героя одного мультфильма, а также лишние запятую и пробел – два пробела не должны идти подряд.

При этом размер нового предложения в данной кодировке оказался на 13 байт меньше, чем размер исходного предложения. Напишите в ответе удалённое имя героя мультфильма.

Задание 2

Вася и Петя играли в шпионов и кодировали сообщения собственным шифром. Фрагмент кодовой таблицы приведён ниже.

Ж	Е	С	А	К	Л
+ #	+ ^ #	#	^	^ #	# +

Расшифруйте сообщение, если известно, что буквы в нём **не повторяются**.

+ + ^ # # ^ # ^

Запишите в ответе расшифрованное сообщение.

Задание 3

Напишите наименьшее натуральное число x , для которого истинно высказывание:

$(x > 2) \text{ И } ((x < 4) \text{ ИЛИ } (x > 4)).$

Задание 4

Между населёнными пунктами А, В, С, D, Е, F построены дороги, протяжённость которых (в километрах) приведена в таблице.

	A	B	C	D	E	F
A		3				15
B	3		2	3	7	
C		2		1	3	
D		3	1		1	
E		7	3	1		2
F	15				2	

Определите длину кратчайшего пути между пунктами А и F, проходящего через пункт С. Передвигаться можно только по дорогам, указанным в таблице. Каждый пункт можно посетить только один раз.

Задание 5

У исполнителя Делитель две команды, которым присвоены номера:

1. раздели на 2

2. прибавь 1

Первая из них уменьшает число на экране в 2 раза, вторая увеличивает его на 1.

Исполнитель работает только с натуральными числами.

Составьте алгоритм получения из числа **89** числа **24**, содержащий не более 5 команд. В ответе запишите только номера команд.

(Например, 21121 — это алгоритм:

прибавь 1

раздели на 2

раздели на 2

прибавь 1

раздели на 2,

который преобразует число 75 в 10.)

Если таких алгоритмов более одного, то запишите любой из них.

Задание 6

Ниже приведена программа, записанная на пяти языках программирования.

Алгоритмический язык	Паскаль
<pre>алг нач цел s, t, A ввод s ввод t ввод A если s > 10 или t > A то вывод "YES" иначе вывод "NO" все кон</pre>	<pre>var s, t, A: integer; begin readln(s); readln(t); readln(A); if (s > 10) or (t > A) then writeln("YES") else writeln("NO") end.</pre>
Бейсик	Python
<pre>DIM s, t, A AS INTEGER INPUT s INPUT t INPUT A IF s > 10 OR t > A THEN PRINT "YES" ELSE PRINT "NO" ENDIF</pre>	<pre>s = int(input()) t = int(input()) A = int(input()) if (s > 10) or (t > A): print("YES") else: print("NO")</pre>
C++	
<pre>#include <iostream> using namespace std; int main(){ int s, t, A; cin >> s; cin >> t; cin >> A; if (s > 10 t > A) cout << "YES" << endl; else cout << "NO" << endl; return 0; }</pre>	

Было проведено 9 запусков программы, при которых в качестве значений переменных s и t вводились следующие пары чисел:

(1, 2); (11, 2); (1, 12); (11, 12); (—11, —12); (—11, 12); (—12, 11); (10, 10); (10, 5).

Укажите целое значение параметра A , при котором для указанных входных данных программа напечатает «NO» пять раз.

Задание 7

Доступ к файлу **ru.gif**, находящемуся на сервере **last.ru**, осуществляется по протоколу **https**. Фрагменты адреса файла закодированы цифрами от 1 до 7. Запишите последовательность этих цифр, кодирующую адрес указанного файла в сети Интернет.

- 1) /
- 2) ://
- 3) last.
- 4) gif
- 5) https
- 6) ru.
- 7) ru

Задание 8

В языке запросов поискового сервера для обозначения логической операции «ИЛИ» используется символ «|», а для обозначения логической операции «И» – символ «&». В таблице приведены запросы и количество найденных по ним страниц некоторого сегмента сети Интернет.

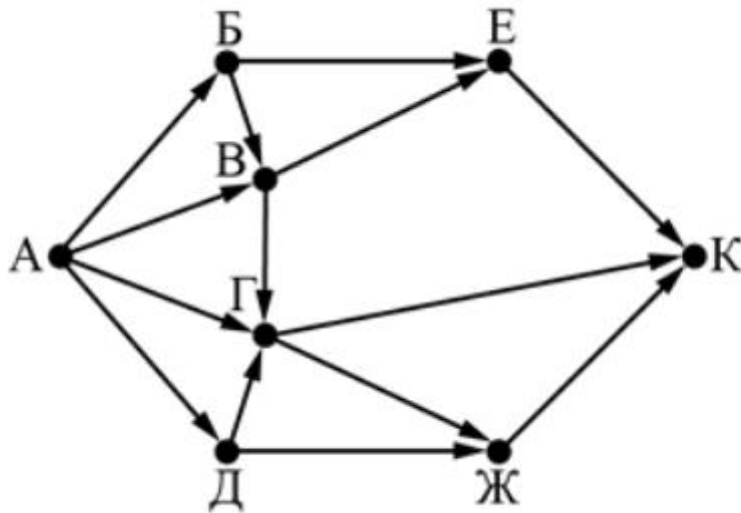
Запрос	Найдено страниц (в тысячах)
<i>Москва & Метро</i>	980
<i>Метро</i>	4320
<i>Москва</i>	5430

Какое количество страниц (в тысячах) будет найдено по запросу *Москва | Метро*?

Считается, что все запросы выполнялись практически одновременно, так что хранящаяся на поисковом сервере информация о наборе страниц, содержащих все искомые слова, не изменялась за время выполнения запросов.

Задание 9

На рисунке – схема дорог, связывающих города А, Б, В, Г, Д, Е, Ж и К. По каждой дороге можно двигаться только в одном направлении, указанном стрелкой. Сколько существует различных путей из города А в город К?



Задание 10

Переведите число 135 из десятичной системы счисления в двоичную систему счисления. Сколько единиц содержит полученное число?

В ответе укажите одно число – количество единиц.

Задание 11

В одном из произведений А.П. Чехова, текст которого приведён в подкаталоге каталога **Проза**, есть героиня по прозвищу Печончиха. С помощью поисковых средств операционной системы и текстового редактора или браузера выясните имя этой женщины.

Задание 12

Сколько файлов с расширением htm, объёмом менее 51 200 байт каждый, содержится в подкаталогах каталога **ДЕМО-12**? В ответе укажите только число.

Задание 13.1

Используя информацию и иллюстративный материал, содержащийся в каталоге ДЕМО-13, создайте презентацию из трёх слайдов на тему «Каракал». В презентации должны содержаться краткие иллюстрированные сведения о внешнем виде, ареале обитания, образе жизни и рационе каракалов. Все слайды должны быть выполнены в едином стиле, каждый слайд должен быть озаглавлен.

Презентацию сохраните в файле, имя которого Вам сообщат организаторы экзамена. Файл ответа необходимо сохранить в одном из следующих форматов: *.odp, *.ppt, *.pptx.

Требования к оформлению работы

1. Ровно три слайда без анимации. Параметры страницы (слайда): экран (16:9), ориентация альбомная.

2. Содержание, структура, форматирование шрифта и размещение изображений на слайдах:

- первый слайд – титульный слайд с названием презентации, в подзаголовке титульного слайда в качестве информации об авторе презентации указывается идентификационный номер участника экзамена;

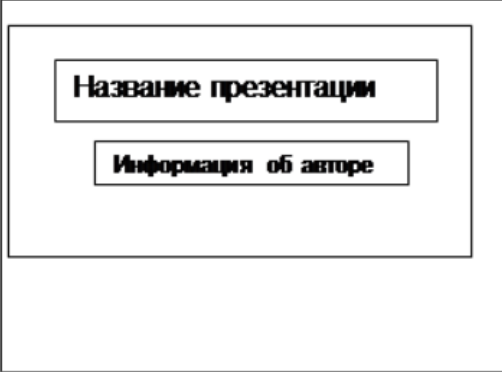


- второй слайд – основная информация в соответствии с заданием, размещённая по образцу на рисунке макета слайда 2:

- заголовок слайда;
- два изображения;
- два блока текста;

- третий слайд – дополнительная информация по теме презентации, размещённая по образцу на рисунке макета слайда 3:

- заголовок слайда;
- три изображения;
- три блока текста.

На макетах слайдов существенным является наличие всех объектов, включая заголовки, их взаимное расположение. Выравнивание объектов, ориентация изображений выполняются произвольно в соответствии с замыслом автора работы и служат наилучшему раскрытию темы.

	<p>Макет 1 слайда Тема презентации</p>
	<p>Макет 2 слайда Основная информация по теме презентации</p>
	<p>Макет 3 слайда Дополнительная информация по теме презентации</p>

В презентации должен использоваться единый тип шрифта.

Размер шрифта для названия презентации на титульном слайде – 40 пунктов, для подзаголовка на титульном слайде и заголовков слайдов – 24 пункта, для подзаголовков на втором и третьем слайдах и для основного текста – 20 пунктов.

Текст не должен перекрывать основные изображения и сливаться с фоном.

Задание 13.2

Создайте в текстовом редакторе документ и напишите в нём следующий текст, точно воспроизведя всё оформление текста, имеющееся в образце.

Данный текст должен быть набран шрифтом размером 14 пунктов обычного начертания. Отступ первой строки абзацев основного текста – 1 см. Расстояние между строками текста не менее одинарного, но не более полуторного междустрочного интервала. Основной текст выровнен по ширине; заголовок текста, текст в ячейках первой и седьмой строк таблицы, первого столбца таблицы – по центру; в ячейках второго столбца – выравнивание по левому краю. Во всех ячейках таблицы применено вертикальное выравнивание по центру. В основном тексте и таблице есть слова, выделенные полужирным шрифтом, курсивом или подчёркиванием. Таблица выровнена на странице по центру горизонтали. Ширина таблицы меньше ширины основного текста.

При этом допустимо, чтобы ширина Вашего текста отличалась от ширины текста в примере, поскольку ширина текста зависит от размеров страницы и полей. В этом случае разбиение текста на строки должно соответствовать стандартной ширине абзаца.

Интервал между заголовком текста и текстом, между абзацами текста, между текстом и таблицей не менее 12 пунктов, но не более 24 пунктов.

Текст сохраните в файле, имя которого Вам сообщат организаторы.

Файл ответа необходимо сохранить в одном из следующих форматов: *.odt, или *.doc, или *.docx.

КАЗАНСКИЙ МЕТРОПОЛИТЕН

Казанский метрополитен (тат. *Казан метрополитены*) стал первым метрополитеном в России, построенным после распада СССР, седьмым по счёту в стране.

В метрополитене все указатели написаны на трёх языках – татарском, русском и английском. Объявления в метро, как и во всём общественном транспорте, также дублируются на трёх языках.

<u>Описание</u>	
Дата открытия	27 августа 2005 г.
Дневной пассажиропоток, тыс. человек	83,5
Количество линий	1
Количество станций	11
Длина, км	16,765
<u>Подвижной состав</u>	
Максимальное число вагонов в составе поезда	4
Средняя скорость, км/ч	43,7

Задание 14

В электронную таблицу занесли данные наблюдения за погодой в течение одного года. Ниже приведены первые пять строк таблицы.

	A	B	C	D	E	F
1	Дата	Температура	Осадки	Давление	Ветер	Скорость ветра
2	1 января	0,7	15,2	748	ЮВ	4,2
3	2 января	0,4	4,6	751	В	4,7
4	3 января	-1,9	1,4	747	С	2,4
5	4 января	-7,7	0,2	752	З	4,7

В столбце А записана дата наблюдения; в столбце В — среднесуточная температура воздуха для указанной даты; в столбце С — количество выпавших осадков (в миллиметрах) для указанной даты; в столбце D — среднесуточное атмосферное давление (в миллиметрах ртутного столба). В столбце E записано направление ветра для указанной даты — одно из восьми возможных значений: «СЗ», «С», «СВ», «В», «ЮВ», «Ю», «ЮЗ», «З». В столбце F записана среднесуточная скорость ветра (в метрах в секунду). Всего в электронную таблицу были занесены данные по всем 365 дням года в хронологическом порядке.

Выполните задание.

Откройте файл с данной электронной таблицей (расположение файла Вам сообщат организаторы экзамена). На основании данных, содержащихся в этой таблице, выполните задания.

1. Какое среднее количество осадков выпадало за сутки в осенние месяцы (сентябрь, октябрь, ноябрь)? Ответ на этот вопрос запишите в ячейку Н2 таблицы.
2. Какая средняя температура была в те дни года, когда дул северный (С) ветер? Ответ на этот вопрос запишите в ячейку Н3 таблицы.
3. Постройте круговую диаграмму, отображающую соотношение количества дней, когда дули ветры «В», «СВ» и «ЮВ». Левый верхний угол диаграммы разместите вблизи ячейки G6. В поле диаграммы должны присутствовать легенда (обозначение, какой сектор диаграммы соответствует каким данным) и числовые значения данных, по которым построена диаграмма.

Ответы должны быть вычислены с точностью не менее двух знаков после запятой. Полученную таблицу необходимо сохранить под именем, указанным организаторами экзамена.

Задание 15.1

Исполнитель Робот умеет перемещаться по лабиринту, начерченному на плоскости, разбитой на клетки. Между соседними (по сторонам) клетками может стоять стена, через которую Робот пройти не может.

У Робота есть девять команд. Четыре команды — это команды-приказы:

вверх вниз влево вправо

При выполнении любой из этих команд Робот перемещается на одну клетку соответственно: вверх ↑, вниз ↓, влево ←, вправо →. Если Робот получит команду передвижения сквозь стену, то он разрушится.

Также у Робота есть команда **закрасить**, при которой закрашивается клетка, в которой Робот находится в настоящий момент.

Ещё четыре команды — это команды проверки условий. Эти команды проверяют, свободен ли путь для Робота в каждом из четырёх возможных направлений:

сверху свободно снизу свободно слева свободно справа свободно

Эти команды можно использовать вместе с условием «если», имеющим следующий вид:

если условие то

последовательность команд

все

Здесь *условие* — одна из команд проверки условия.

Последовательность команд — это одна или несколько любых команд-приказов.

Например, для передвижения на одну клетку вправо, если справа нет стенки и закрашивания клетки, можно использовать такой алгоритм:

если справа свободно то

вправо

закрасить

все

В одном условии можно использовать несколько команд проверки условий, применяя логические связки **и**, **или**, **не**, например:

если (справа свободно) и (не снизу свободно) то

вправо

все

Для повторения последовательности команд можно использовать цикл «**пока**», имеющий следующий вид:

нц пока *условие*

последовательность команд

кц

Например, для движения вправо, пока это возможно, можно использовать следующий алгоритм:

нц пока справа свободно

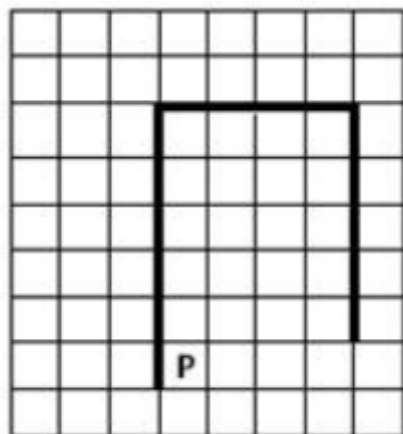
вправо

кц

Выполните задание.

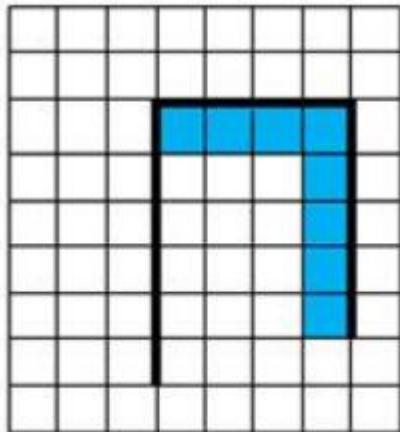
На бесконечном поле имеется вертикальная стена. **Длина стены неизвестна.** От верхнего конца стены вправо отходит горизонтальная стена **также неизвестной длины.** От правого конца этой стены отходит вниз вторая вертикальная стена **неизвестной длины.** Робот находится в клетке, расположенной справа от нижнего края первой вертикальной стены.

На рисунке указан один из возможных способов расположения стен и Робота (Робот обозначен буквой «Р»):



Напишите для Робота алгоритм, закрашивающий клетки, расположенные под горизонтальной стеной и слева от второй вертикальной стены. Робот должен закрасить только клетки, удовлетворяющие данному условию. Например, для

приведённого выше рисунка Робот должен закрасить следующие клетки (см. рисунок):



Конечное расположение Робота может быть произвольным. Алгоритм должен решать задачу для произвольного размера поля и любого допустимого расположения стен внутри прямоугольного поля. При исполнении алгоритма Робот не должен разрушиться.

Алгоритм может быть выполнен в среде формального исполнителя или записан в текстовом редакторе.

Сохраните алгоритм в формате программы Кумир или в текстовом файле. Название файла и каталог для сохранения Вам сообщат организаторы экзамена.

Задание 15.2

Напишите программу, которая в последовательности целых чисел определяет количество чисел, кратных 4 и оканчивающихся на 0. Программа получает на вход целые числа, количество введённых чисел неизвестно, последовательность чисел заканчивается числом 0 (0 — признак окончания ввода, не является членом последовательности).

Количество чисел не превышает 1000. Введённые числа по модулю не превышают 30 000.

Программа должна вывести одно число: количество чисел, кратных 4 и оканчивающихся на 0.

Пример работы программы:

Входные данные	Выходные данные
20 40 -27 12 0	2